

# Интерактивный задачник




$$2 + 4 = \underline{\quad} + 5 - 9 = \underline{\quad}$$

$$3 + 6 = \underline{\quad} + 7 - 4$$

$$\begin{array}{r} + \\ 7 \\ - \\ 6 \\ = \\ + \\ 4 \\ + \\ 1 \\ = \\ \end{array}$$

$$\begin{array}{r} 4 \\ + \\ 8 \\ = \\ \end{array}$$

$$\begin{array}{r} 5 \\ + \\ 10 \\ = \\ \end{array}$$



$$\begin{array}{r} = \\ - \\ 8 \\ + \\ 3 \\ = \\ \end{array}$$

$$\begin{array}{r} \underline{\quad} \\ + \\ 6 \\ - \\ 2 \\ = \\ \end{array}$$

$$\begin{array}{r} \underline{\quad} \\ - \\ 7 \\ + \\ 9 \\ = \\ \end{array}$$

$$9 = \underline{\quad} - 12 + 7 = \underline{\quad}$$

$$\underline{\quad} - 9 + 6 = \underline{\quad} + 8 + 7 = \underline{\quad}$$





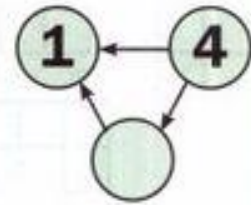
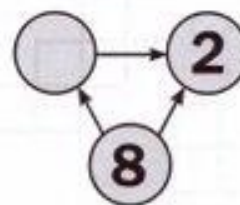
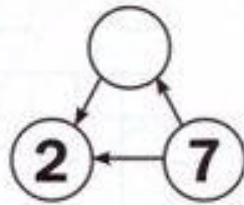
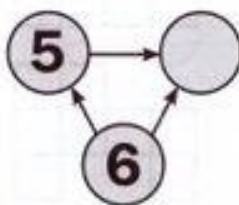
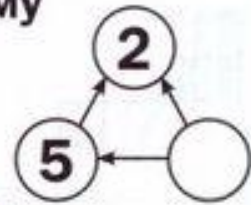
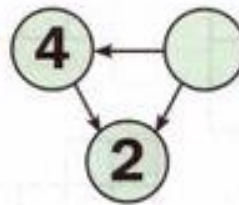
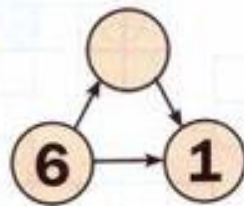
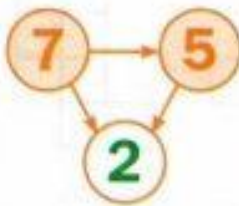
Собери на нитку по 6 бусин  
одинаковой формы



Впиши числа так, чтобы стрелка шла  
от большого к маленькому

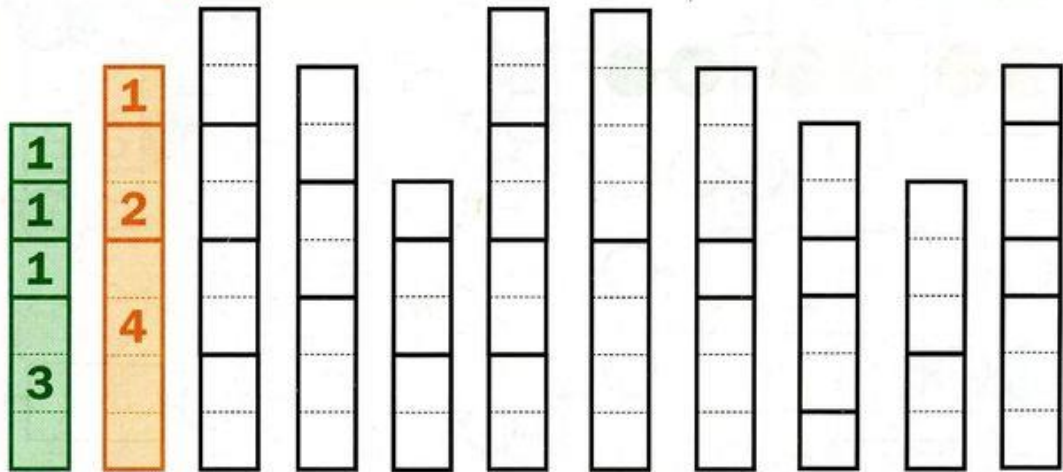


4 Я больше тебя! 1





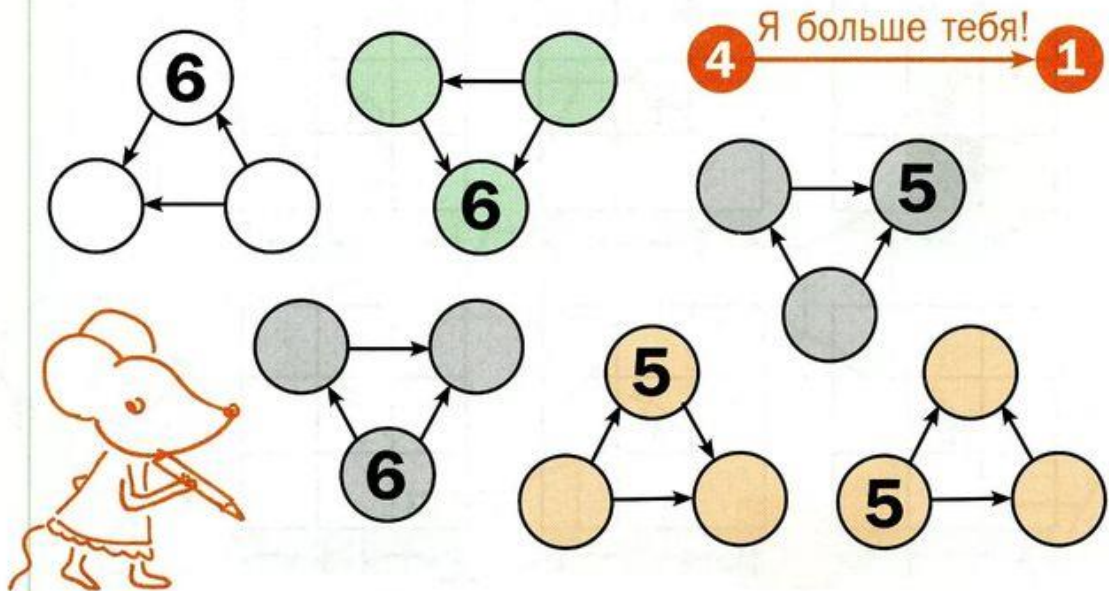
Закрась **зелёным** башни из **6** кубиков  
а **оранжевым** – башни из **7** кубиков



Сколько кубиков в каждом кирпичике?

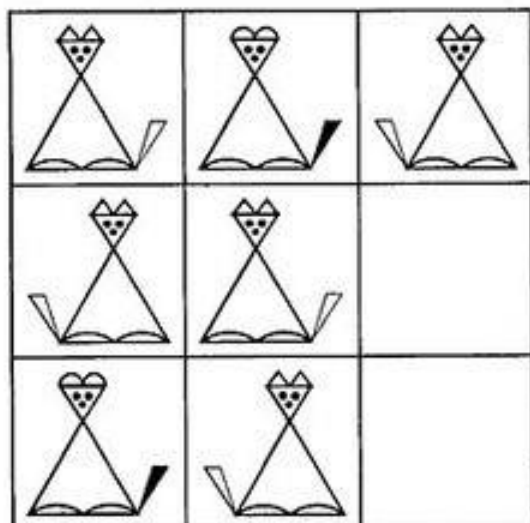


Впиши числа так, чтобы стрелка шла  
от большого к маленькому




*Поиск недостающей фигуры. По нескольким признакам*

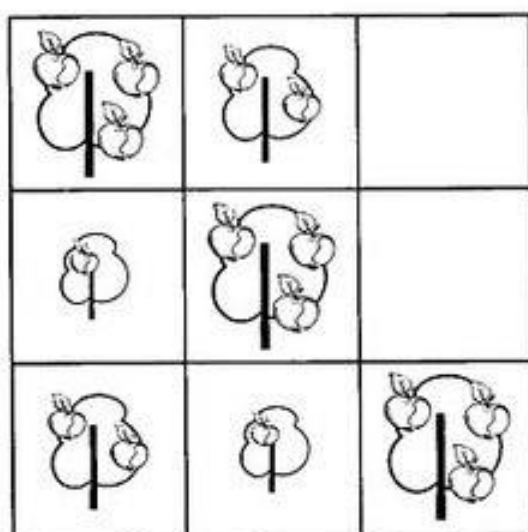
Дорисуй в пустых квадратах недостающую кошку.



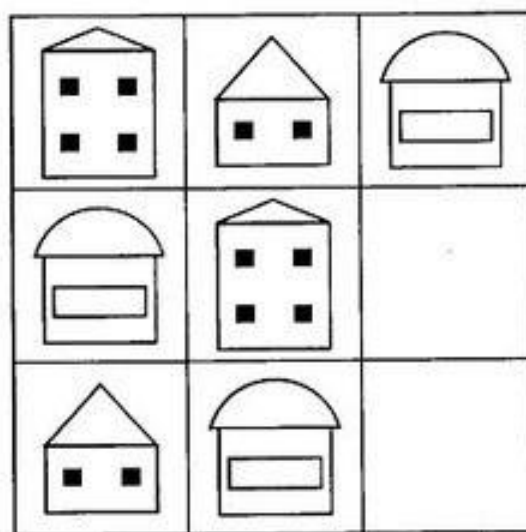
Дорисуй в пустых квадратах недостающую птичку.

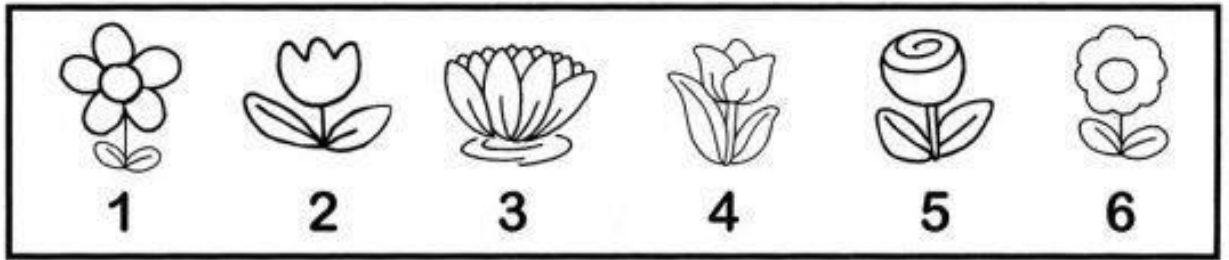


Дорисуй в пустых квадратах недостающее дерево.




Дорисуй в пустых квадратах недостающий домик.






	-		=	<input type="text"/>
	+		=	<input type="text"/>
	-		=	<input type="text"/>
	-		=	<input type="text"/>
	+		=	<input type="text"/>

У Егора и Алёны живут дома животные. У Алёны - попугай и канарейка, а у Егора - собака и кошка. У кого из детей живут дома птицы?



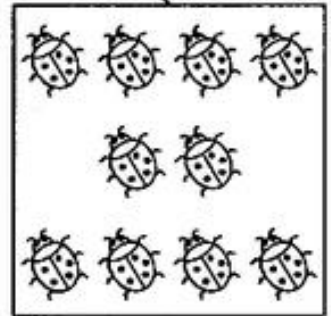
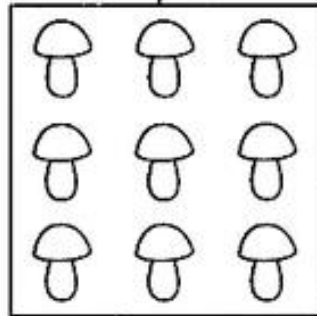

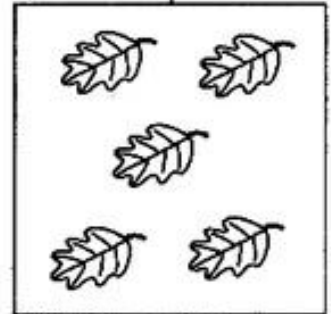
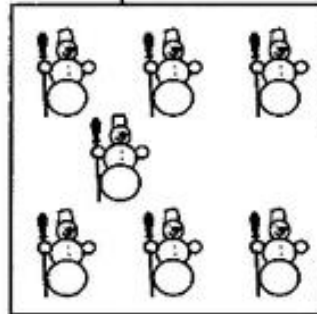

Мама купила дочкам платья разного цвета: красное и зелёное. У Ани платье не красного цвета. Какого цвета платье у каждой девочки?



# МАТЕМАТИКА

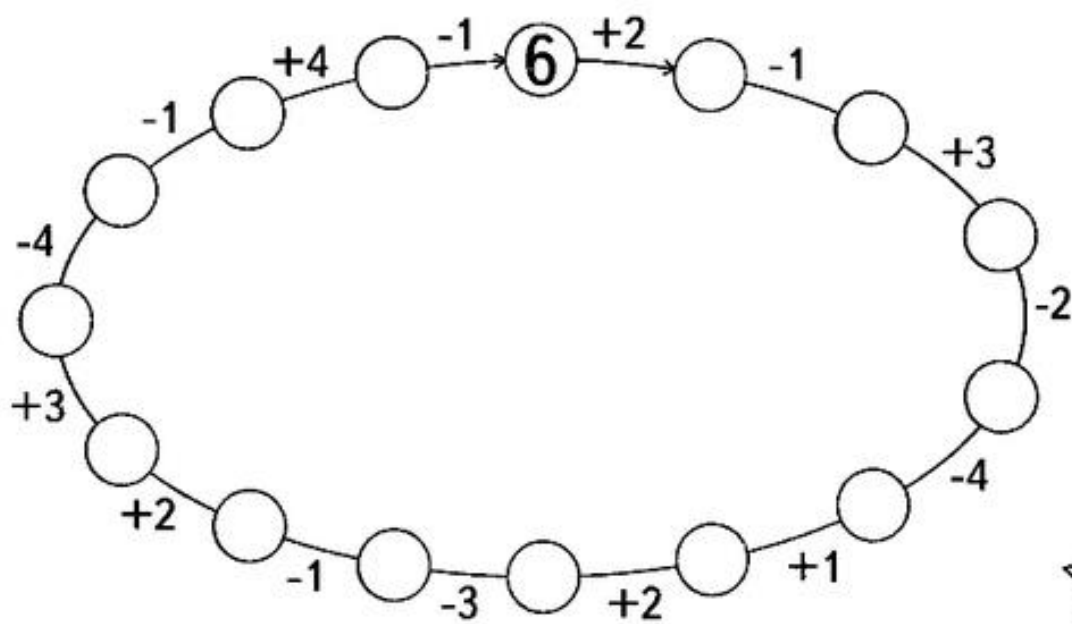
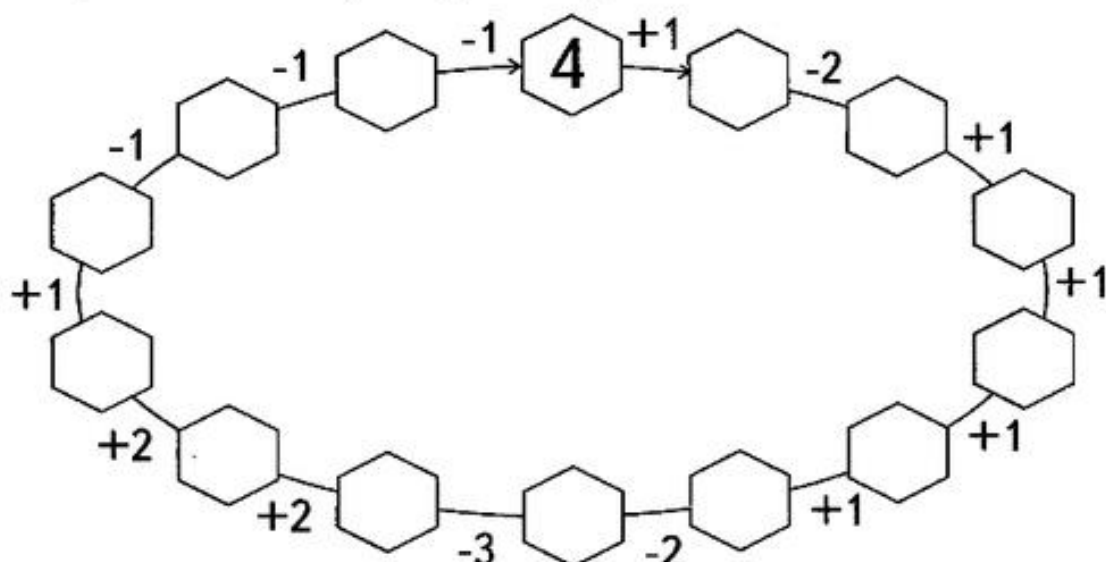
Найди ошибки и объясни их.

2 4 5 7 9 10



# МАТЕМАТИКА

Заверши числовую цепочку.





Стёпа, Витя и Егор получили оценки: тройку, четвёрку и пятёрку. Оценка Стёпы лучше, чем оценка Егора, а оценка Егора лучше, чем оценка Вити. Кто что получил?



Стёпа



Витя



Егор



Вера, Лиза и Яна нашли четыре, пять и шесть грибов. Вера нашла грибов больше, чем Лиза, а Лиза - больше, чем Яна. Кто сколько грибов нашёл?



Вера



Лиза



Яна

